







# Nickel Worksheet









Count the nickels and write the total amount.

	
<input style="width: 50px; height: 30px;" type="text"/> ¢	<input style="width: 50px; height: 30px;" type="text"/> ¢
	
<input style="width: 50px; height: 30px;" type="text"/> ¢	<input style="width: 50px; height: 30px;" type="text"/> ¢
	
<input style="width: 50px; height: 30px;" type="text"/> ¢	<input style="width: 50px; height: 30px;" type="text"/> ¢

# Nickel Worksheet



## Answers

 <p style="text-align: right; font-size: 24pt; color: blue;"><b>15¢</b></p>	 <p style="text-align: right; font-size: 24pt; color: blue;"><b>5¢</b></p>
 <p style="text-align: right; font-size: 24pt; color: blue;"><b>35¢</b></p>	 <p style="text-align: right; font-size: 24pt; color: blue;"><b>10¢</b></p>
 <p style="text-align: right; font-size: 24pt; color: blue;"><b>55¢</b></p>	 <p style="text-align: right; font-size: 24pt; color: blue;"><b>25¢</b></p>